

令和5年度  
附属中学校入学試験問題  
社 会

〔注意事項〕

1. 試験開始の合図があるまで問題を開かないこと。
2. 解答は必ず解答用紙に記入すること。
3. 出身小学校名、氏名、受験番号を解答用紙に記入すること。
4. 試験終了の合図があったら鉛筆をおき、解答用紙の回収がすむまで席を立たないこと。

第1問 次の各問いに答えなさい。

問1 次の地図記号は何を表していますか。記号で答えなさい。



ア. 学校      イ. 交番      ウ. 市役所      エ. 消防署

問2 次の四角で囲まれた文の空欄（ ）にあてはまる言葉を答えなさい。

テレビや新聞などのように、同じ情報を多くの人に一度に送る方法のことを（ ）メディアといいます。

問3 日本の国土の「東端」はどこですか。解答欄に合わせて答えなさい。

問4 小さな男の子が鬼から打出の小槌を得て、背を大きくし、貴族の姫と結婚するという物語は何ですか。記号で答えなさい。

ア. 一寸法師      イ. 浦島太郎      ウ. 桃太郎      エ. 琵琶法師

問5 キリスト教を日本にはじめて伝えたヨーロッパ人は誰ですか。

問6 江戸幕府ができるきっかけになった1600年の天下分け目の戦いは何ですか。

問7 現在の日本では、市長の選挙には何歳から立候補できますか。記号で答えなさい。

ア. 18      イ. 20      ウ. 25      エ. 30

問8 次の四角で囲まれた文の空欄（ ）にあてはまる言葉を答えなさい。

日本国憲法には（ ）の尊重、国民主権、平和主義の三つの原則があり、憲法全体にこれらの原則がつらぬかれています。

問9 日本のODA（政府開発援助）活動の一つとして、教育、医療、農業などの分野で、自分の知識や技術を生かして、アジアやアフリカなどの発展途上の国や地域で活躍している団体を何といいますか。解答欄に合わせて答えなさい。

第2問 次の会話文を読んで、各問いに答えなさい。

◎6年3組の教室では総合的な学習の時間に、グループで取り組む探究課題を決めました。

先生：今度の学習発表会に向けて、どんな課題を探究していきたいか話し合ってもらいました。各グループで決まった課題を教えてください。

A 班：ぼくたちのテーマは、「①自動車と②環境問題」です。最近話題の電気自動車には  といった長所と短所の両方があると思うので、詳しく調べてみることにしました。

先生：なるほど、電気自動車を見かける機会は増えてきたけど、普及にはいくつか課題があるよね。B班はどうか？

B 班：わたしたちは、「③戦争が世界に与える影響」について調べようと思います。④ロシアの軍事侵攻によって⑤ウクライナ各地で多くの命が失われた悲劇はもちろんですが、たとえば多くの人々が国外に避難すると、受け入れる国にも多くの影響をもたらすと思うんです。



先生：そうだね。その他にもウクライナは世界の中でもたくさん作物を作っている国だから、戦争で  の輸出が減ると世界中で食料不足が心配されます。さらにあらゆる商品の値段が上昇するなど、日本も大きな影響を受けています。 化が進んだ今の時代、我々も遠い国のことだと⑥無関心でいることはできても、無関係ではいけないんだよ。

問1 下線部①について、自動車の作られる工程について記号を正しく並びかえなさい。

ア. 検査      イ. 溶接      ウ. 塗装      エ. 組み立て      オ. プレス

問2 下線部②について、1968年に公害病として指定されたイタイイタイ病はどの県で発生しましたか。記号で答えなさい。

ア.       イ. 

ウ.       エ. 

問3 文中の  X  にあてはまる文章を考えて答えなさい。


問4 下線部③について、なぜ戦争はなくならないと思いますか。その理由を考えて答えなさい。

問5 下線部④について、日露戦争の講和条約を結ぶ際の日本の代表者は誰ですか。記号で答えなさい。

ア.



イ.



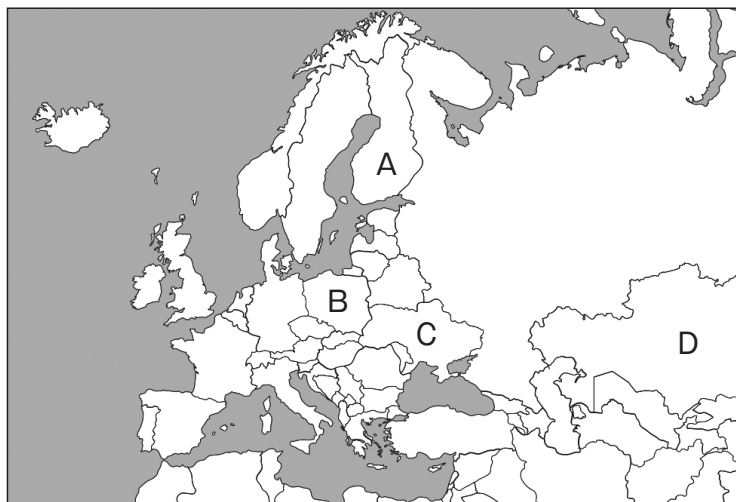
ウ.



エ.



問6 下線部⑤について、ウクライナはどこですか、記号で答えなさい。



問7 文中の **Y** にあてはまるものを記号で答えなさい。

ア.



イ.



ウ.

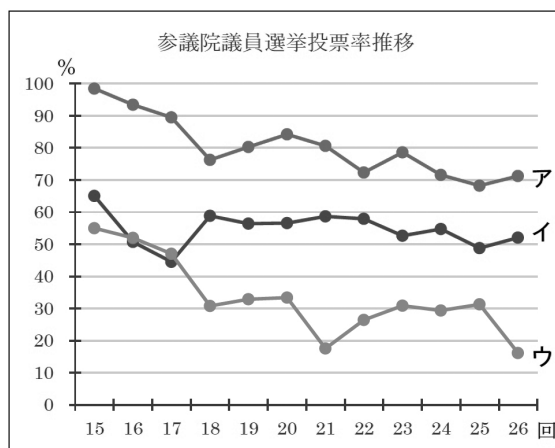


エ.




問8 文中の **Z** には、国と国との結び付きが強まっていく状態を表す言葉が入ります。カタカナで答えなさい。

問9 下線部⑥について、政治的無関心が問題となっていますが、平成以降、昨年行われた第26回参议院議員選挙までの投票率の推移を示しているものを記号で答えなさい。




第3問 図を見て各問いに答えなさい。

問1 この絵図を見て、以下の問いに答えなさい。



- (1) この絵図は何をしている様子を描いたものですか。
- (2) (1) を行った目的を説明しなさい。

問2 ①は公平について描いた絵です。②は平等について描いた絵です。2つの絵を見て以下の問いに答えなさい。



- (1) ①はなぜ公平と言えますか、説明しなさい。
- (2) ②はなぜ平等と言えますか、説明しなさい。
- (3) 平等と公平、あなたはどちらの社会が望ましいと考えますか。絵を参考にあなたの考えを自由に述べなさい。



