

令和4年度
附属中学校入学試験問題
社 会

〔注意事項〕

1. 試験開始の合図があるまで問題を開かないこと。
2. 解答は必ず解答用紙に記入すること。
3. 出身小学校名、氏名、受験番号を解答用紙に記入すること。
4. 試験終了の合図があったら鉛筆をおき、解答用紙の回収がすむまで席を立たないこと。

第1問 次の各問いに答えなさい。

問1 次の地図記号は何を表していますか。記号で答えなさい。



ア. 工場 イ. 寺院 ウ. 神社 エ. 消防署^{しよ}

問2 次の四角で囲まれた文の空らん（ ）にあてはまる言葉を答えなさい。

農家の人が、稲刈りをした「もみ」を（ ）エレベーターへ持ってきて、それを乾燥^{かんそう}し、保管します。

問3 日本の工業地帯の中で、一番生産額が多いのは何工業地帯ですか。

問4 紫^{むらさき}式部^{しきぶ}によって書かれた長編^{ちやうへん}小説は何ですか。記号で答えなさい。

ア. 徒然草^{つれづれぐさ} イ. 方丈記^{ほうじょうき} ウ. 枕草子^{まくらのそうし} エ. 源氏物語^{げんじものがたり}

問5 三内丸山遺跡^{さんないまるやま いせき}は、現在の何県にありますか。

問6 室町時代に銀閣を建てた人物は誰ですか。

問7 警察本部^{けいさつ}の通信指令室につながる電話番号はどれですか。記号で答えなさい。

ア. 109 イ. 110 ウ. 117 エ. 119

問8 次の四角で囲まれた文の空らん（ ）にあてはまる言葉を答えなさい。

国会には、（ ）議院と参議院という二つの話し合いの場があり、国民の生活にかかわる法律や政治を進めるための予算などを多数決で決めます。

問9 教育・科学・文化を通じて、平和な社会をつくることを目的としている国際連合の機関を何といいますか。

第2問 次の会話文を参考にして、各問いに答えなさい。

子：最近、すごく雨が降っているね。①近くの川があふれないか心配だよ。

父：広い範囲で被害を受けている地域もあるんだ。特に、②佐賀県の武雄市は大変だったみたいだよ。

子：なんで③日本列島ではこんなに④水害がおこるの？

父：日本は国土がせまくて山が多いから急な川が多いんだ。だから大雨が降ると、大量の水が勢いよく流れてしまうんだよ。

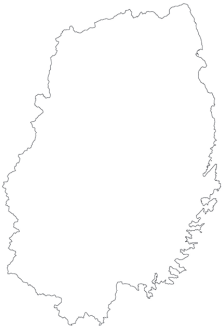
子：⑤川は危険なんだね。

問1 下線部①について、広島県にある川はどれですか。記号で答えなさい。

- ア. 太田川 イ. ^{いまづ}今津川 ウ. ^{しまんと}四万十川 エ. ^{さば}佐波川

問2 下線部②について、佐賀県はどれですか。記号で答えなさい。

ア.



イ.



ウ.



エ.



問3 下線部③について、日本列島の南端にある島は何ですか。記号で答えなさい。

- ア. ^{えとろふ}択捉島 イ. ^{なんたん}南鳥島 ウ. 沖ノ鳥島 エ. ^{よなぐに}与那国島

(中社2)

問4 下線部④について、水害の対策にはならないものはどれですか。記号で答えなさい。


ア.



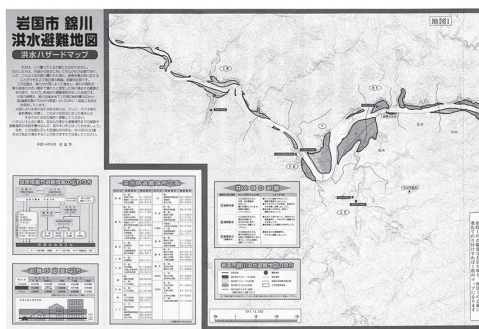
イ.



ウ.



エ.



問5 下線部⑤について、反対に川があることの良い点は何ですか。考えて答えなさい。

第3問 次の年表を見て、各問いに答えなさい。

年	できごと
1853	ペリーが浦賀 <small>うらが</small> に来る……………①
	↑ A ↓
1889	大日本帝国憲法が公布される……………②
	↑ B ↓
1923	関東大震災 <small>しんさい</small> が起こる
	↑ C ↓
1946	日本国憲法が公布される……………③
	↑ D ↓
1964	東京オリンピックが開催 <small>かいさい</small> される……………④

問1 ①について、徳川慶喜よしのぶの時代の出来事はどれですか。記号で答えなさい。

- ア. 『古事記伝』が書かれる イ. 政権を朝廷ちやうていに返す
ウ. 西南戦争がおこる エ. 浮世絵うきよえが人気になる

問2 Aの時期を中心に、日本はヨーロッパの国々に追いつくために、工業をさかんにし、強い軍隊をもつことに力を入れました。このことを何といいますか。漢字4字で答えなさい。

問3 ②について、この憲法をつくるときに参考にした国に最も関係の深いものはどれですか。記号で答えなさい。

ア.  イ.  ウ.  エ.  黒
赤
黄

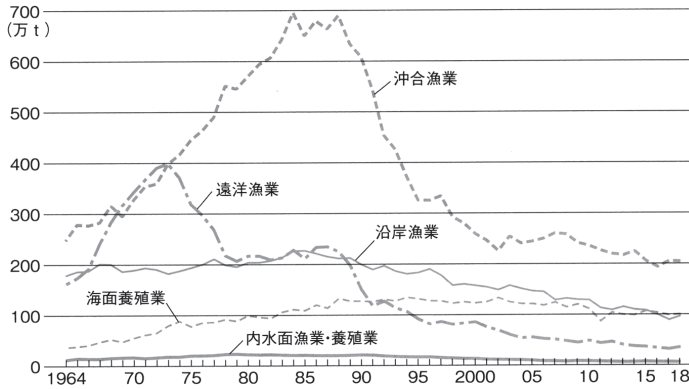
問4 ③について、日本国憲法の三つの原則は、「国民主権」と「基本的人権の尊重」ともう一つは何ですか。

問5 ④について、この時期に整備されたものとして誤っているものはどれですか。記号で答えなさい。

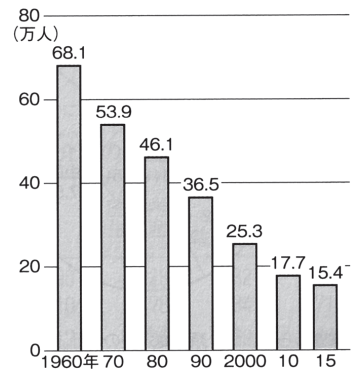
- ア. 新幹線 イ. インターネット ウ. 高速道路 エ. 下水道

問6 日本とロシアが戦争をおこなったのは、A～Dのどの時期にあたりますか。記号で答えなさい。

第4問 【資料①】【資料②】は日本の漁業に関するグラフです。この二つのグラフの中の言葉や数字を用いて、日本の漁業の特色について説明しなさい。



【資料①】「漁業別の漁獲量 (捕鯨業はふくみません)」



【資料②】「漁業で働く人の数」

『表とグラフで見る日本のすがた2020』より

第5問 【資料③】【資料④】は江戸時代に地震が発生したあとの社会のようすをえがいたものです。江戸時代、地震はナマズが引きおこすと考えられていたため、この絵にはナマズがえがかれています。この絵は何を伝えようとしていますか。あなたの考えを書きなさい。



【資料③】「地震鯰絵」



【資料④】「地震鯰絵」

