

平成30年度
付属中学校入学試験問題
社 会

〔注意事項〕

1. 試験開始の合図があるまで問題を開かないこと。
2. 解答は必ず解答用紙に記入すること。
3. 出身小学校名、氏名、受験番号を解答用紙に記入すること。
4. 試験終了の合図があったら鉛筆をおき、解答用紙の回収がすむまで席を立たないこと。

第1問 次の会話文を読んで、各問いに答えなさい。

○社会科の授業のあと、先生とゆいと君は、災害についての話をしています。

ゆいと君：先生、日本では多くの災害が発生していますが、どのような災害が発生したんですか。

先生：最近では、①東日本大震災だいしんさいが起こったかな。それ以前には、②阪神淡路大震災はんしんあわじも被害が大きかった災害ですね。

ゆいと君：東日本大震災はぼくも記憶きおくに残っています。③東北地方が津波つなみにより、大きな被害を受けた災害でしたね。

先生：よく知っていますね。津波の被害以外にも、④原子力発電所こわも壊れてしまいましたね。特に⑤漁業関係者の多くは仕事を失ったんだ。今でもその地域の人々は故郷に帰ることができず困っているんだよ。

ゆいと君：ああ、そうなんですね。東日本大震災からもうすぐ7年たちますが、まだ人々の生活は復興できてないんですね。

先生：そうなんですよ。人々の生活の復興というよりもむしろ、インフラ整備を優先するような政策をおこなう風潮があるんだ。

ゆいと君：だから、津波の被害を防ぐために（ア）の建設や（イ）といった政策を進めているんですね。

先生：インフラ整備をおこなっていくことも大切だけど、⑥人々の生活を支援する政策しえんももっとおこなっていく必要があると先生は考えているんだ。

問1 下線部①について、東日本大震災が発生したのはいつですか。解答欄かいとうらんに合わせて答えなさい。

問2 下線部①について、震災からの復旧に際して、アメリカ軍が支援をおこないました。このことを何作戦といいますか。答えなさい。

問3 下線部②について、阪神淡路大震災の様子を示した画像はどれですか。下から選び、記号で答えなさい。

ア.



イ.



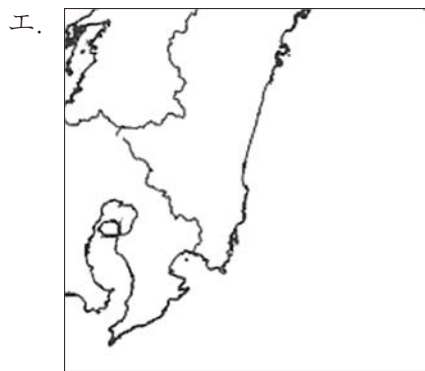
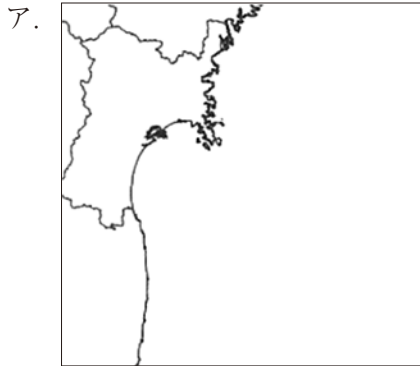
ウ.



エ.



問4 下線部③について、津波によって大きな被害を受けた海岸線はどれですか。下から選び、記号で答えなさい。



問5 下線部④について、原子力以外にも水力・火力発電所などがあります。それぞれの長所と短所について、解答欄の表に合うものを下から選び、一つずつ記号で答えなさい。

- | | |
|--------------------|------------------------------|
| ア. 消費地まで遠く、建設費が高い。 | イ. CO ₂ の排出を伴わない。 |
| ウ. 建設費が安く、出力が大きい。 | エ. 公害を出す。 |
| オ. 放射能漏れなどの危険がある。 | カ. 日本は急流が多いので利用しやすい。 |

問6 下線部⑤について、東北地方の三陸海岸の漁業について述べた文として誤っているのはどれですか。下から選び、記号で答えなさい。

- ア. サバやサンマの漁獲量が多い。
- イ. 沖合で暖流と寒流がぶつかり、潮目を形成している。
- ウ. 大陸棚が広がりプランクトンが繁殖している。
- エ. リアス海岸のため湾内の波が穏やかなので、うなぎの養殖が盛んである。

問7 会話中の（ア）と（イ）にはどのような語句や文が入ると思いますか。それぞれ考えて答えなさい。

問8 下線部⑥について、どのような政策が考えられますか。あなたの考えを書きなさい。

第2問 次の会話文を読んで、各問いに答えなさい。

○先生との会話で、災害に関心をもったゆいと君は、図書館で日本の災害の歴史について調べました。

ゆいと君：この日曜日に⑦図書館に行って、日本の災害の歴史について調べてきました。

先生：立派ですね。どんなことが分かりましたか。

ゆいと君：⑧どの時代にも、大きな地震が日本を襲っていたことが分かりました。

先生：そうですね。地震は周期的に来ますから。

ゆいと君：大正時代には⑨関東大震災が発生して、⑩東京が大きな被害を受けました。さらに、江戸時代には⑪安政の大地震が日本を襲い、津波も発生したそうです。

先生：よく調べていますね。安政の大地震ですか。先生の大学の卒業論文のテーマでしたよ。

ゆいと君：じゃあ先生、もう少し教えてください。

先生：安政の大地震は、江戸末期に関東地方や東海地方を襲いました。津波も発生し、⑫下田という町が壊滅的な被害を受けました。

ゆいと君：下田？歴史の授業で習いました。

先生：そうですね。1854年に幕府は⑬ペリーと日米和親条約を結び、ここ箱館の2港を開港しました。

ゆいと君：これで江戸幕府の⑭鎖国政策は終わったんですね。

先生：この後、日米修好通商条約を結び、外国と⑮貿易をするようになったんだ。

ゆいと君：ありがとうございました。図書館では調べられなかったんですが、地震や津波以外では、どのような災害が起こっていたんですか。

先生：ききんや干ばつなどが発生していたみたいです。

ゆいと君：確か、ききんとは（ ）でしたね。その結果、⑯打ちこわしや一揆などが起こったんですね。

先生：そうですね。ききんはとても大きな問題でした。

ゆいと君：災害は、いつの時代も日本の社会に大きな影響を与えたんですね。

問9 下線部⑦について、調べ学習の手順になるよう、次の短文を並べかえ、記号で答えなさい。

- ア. まとめたことを伝える。
- イ. 資料を探して調べる。
- ウ. 調べたことをまとめる。
- エ. 調べる課題を見つける。

問10 下線部⑧について、下の画像ア～エを時代順に並べかえ、記号で答えなさい。

ア.



イ.



ウ.



エ.



問11 下線部⑨について、関東大震災と同時期の出来事はどれですか。下から選び、記号で答えなさい。

ア. 足尾銅山^{あしおとうざん}鉍毒事件 イ. 日清戦争 ウ. 日露^{にちろ}戦争 エ. 国際連盟発足

問12 下線部⑩について、東京にあるものの画像はどれですか。下から選び、記号で答えなさい。

ア.



イ.



ウ.

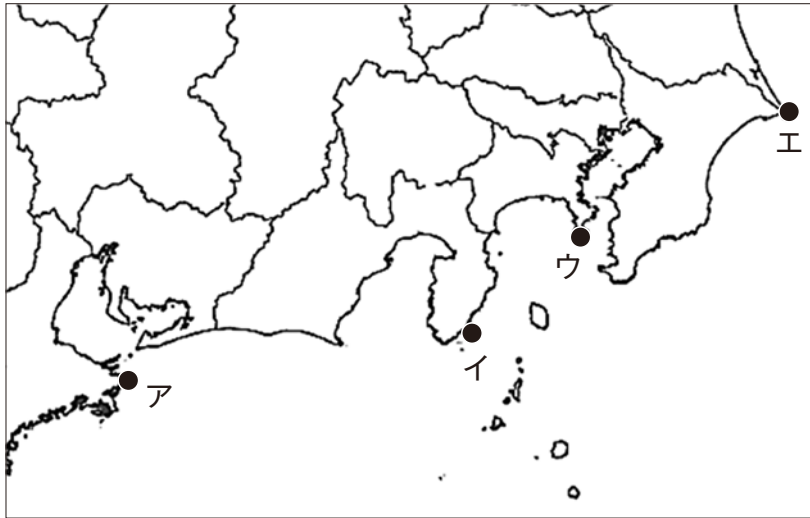


エ.



問13 下線部⑪について、安政の大地震が起きた頃、幕府により多くの人々が処罰される事件が起こりました。このときに処罰された長州藩出身の人物は誰ですか。漢字で答えなさい。

問14 下線部⑫について、下田の場所を下の地図から選び、記号で答えなさい。



問15 下線部⑬について、下の画像は日本人が描いたペリーの肖像画です。なぜこのような表情で描かれたと思いますか。あなたの考えを書きなさい。




問16 下線部⑭について、以下の文の（ ）に入る最も適切な語句を答えなさい。

鎖国政策とは、貿易の相手を（ア）を広める恐れのない（イ）と中国に限り、貿易船の出入りを幕府の港町である（ウ）に限って認めた政策である。

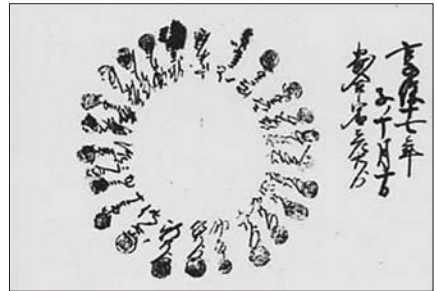
問17 下線部⑮について、右の画像は室町時代の貿易で使用された勘合符を表したものです。今の社会では、どのような使われ方をしたいと思いますか。下から選び、記号で答えなさい。

- ア. クレジットカード
- イ. ドナーカード
- ウ. ETCカード
- エ. IDカード



問18 下線部⑯について、右の画像は江戸時代の百姓一揆に参加する百姓の名前を、わざと円形状に書いたものです。その理由を下から選び、記号で答えなさい。

- ア. リーダーをわからなくするため
- イ. 百姓はみな平等だったため
- ウ. 宗教の影響を受けているため
- エ. 円陣えんじんを組んで気合いを入れたため



問19 会話中の（ ）に入る文章を、下の二つの語句を必ず使用して書きなさい。

〔 天候 ・ 食料 〕

第3問 次の会話文を読んで、各問いに答えなさい。

○家に帰ったゆいと君は、災害についてお母さんと話をすることにしました。

ゆいと君：今、⑰災害について勉強しているよ。日本では災害がよく起こるので、普段から備えをしておく⑱防災が大切だということが分かったよ。うちではどんなことをやっているの？

お母さん：⑲ハザードマップを見ると、うちはとても危険な地域だということが分かっているよ。だから、どこに避難したらいいのかよくお父さんと話しているよ。

ゆいと君：そういえば、お父さんも言っていたよ。うちの場合、近くにある総合体育館に避難するらしいね。

お母さん：そうだよ。けれど、地震や津波はいつ来るか分からないから、いつも総合体育館に逃げられるわけではないよ。

ゆいと君：だからこそ、「⑳津波てんでんこ」が大切なんだね。

お母さん：東日本大震災でも釜石市の小中学校では、避難訓練のなかで、「津波てんでんこ」の教えを徹底していたんだね。そのため、生存率が99%だったらしいよ。

ゆいと君：先生も話していたよ。このことを「㉑釜石の（ ）」って言うんだよね。

お母さん：災害の歴史から教訓を学んで、避難訓練などを自分のこととして行うことが大切だよ。

問20 下線部⑰について、地球温暖化が主な原因とされている自然災害はどれですか。下から選び、記号で答えなさい。

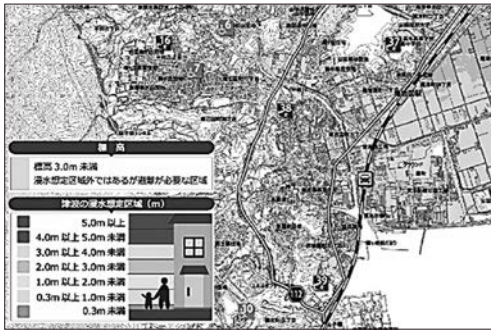
- ア. 津波
- イ. 噴火
- ウ. 豪雨
- エ. 地震

問21 下線部⑱について、119番に電話をかけると、どこにつながりますか。下から選び、記号で答えなさい。

- ア. 水道局
- イ. 病院
- ウ. 通信指令室
- エ. 警察署

問22 下線部⑱について、ハザードマップはどれですか。下から選び、記号で答えなさい。

ア.



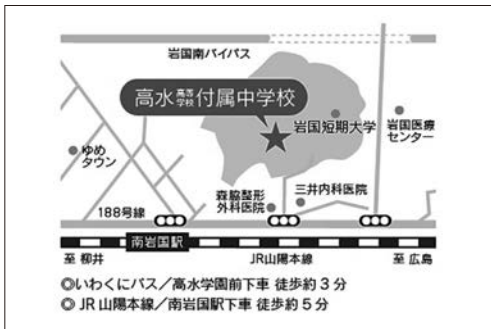
イ.



ウ.



エ.



問23 下線部⑳について、「津波てんでんこ」とはどのような意味だと思いますか。答えなさい。

問24 下線部㉑について、()に入る語句を答えなさい。