

平成26年度
付属中学校入学試験問題
社 会

〔注意事項〕

1. 試験開始の合図があるまで問題を開かないこと。
2. 解答は必ず解答用紙に記入すること。
3. 出身小学校名、氏名、受験番号を解答用紙に記入すること。
4. 試験終了の合図があったら鉛筆をおき、解答用紙の回収がすむまで席を立たないこと。

第1問 次の文章を読んで、各問いに答えなさい。

〔A〕

平成20年5月、神奈川県横浜市で「アフリカ開発会議」が開かれた。この会議は、アフリカの開発をテーマに、国際連合などといっしょに、日本が中心となって5年に1回開かれている。アフリカには50をこえる国があり、人口は約10億人である。①赤道をはさんで②熱帯雨林・サバナ・地中海式気候と多様な気候と自然を持つ。また資源に恵まれた国々も多く、石油・天然ガス・ウランといったエネルギー資源のほかに、【ア】の産出国もある。世界に占めるアフリカでの【ア】の埋蔵量は、プラチナが9割、コバルトが5割に上がり、資源の輸出でもうけた国々では急速な経済成長を記録している。その一方で開発途上の国も多く、日本は③政府開発援助という海外援助活動をさかんに行っている。2010年には④南アフリカ共和国で【イ】が開催された。

〔B〕

原爆は、人類が戦争に使った唯一の核兵器である。昭和20年8月に投下された⑤2つの原爆は、一瞬にして町を消し去り、多くの命を奪った。戦後、日本政府は非核化を宣言し、昭和46年、国会で⑥非核三原則を決議した。アメリカの⑦オバマ大統領は「核兵器なき世界」をめざしているが、朝鮮民主主義人民共和国は核開発を続けている。ロシアもオバマ大統領の核軍縮を進める交渉に応じていない。

〔C〕

⑧富士山が⑨国連教育科学文化機関の世界遺産に登録され、日本の世界遺産は17件となった。富士山が世界の宝と認められたことはすばらしいが、⑩多くの問題も抱えている。遺産の状況は厳しくチェックされるため、これからが保護の正念場を迎える。日本には、登録をめざす候補地が13件ある。⑪群馬県の「富岡製糸場と絹産業遺産群」もその1つであり、2014年の登録をめざし審査を受けることが決まっている。

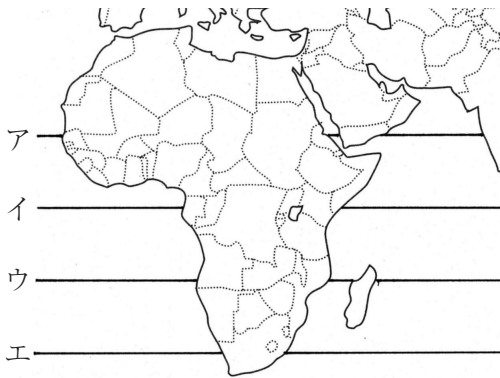
〔D〕

本州の一番西にある⑫山口県は、吉田松陰や高杉晋作など多くの志士を生み、近代日本をつくる力となった。城下町の面影を残す萩市、「西の【ウ】」とも呼ばれる山口市、源平の合戦の舞台となった⑬下関市などが代表的な観光地である。JR山口線では、観光シーズンの休日などに⑭SL（蒸気機関車）「やまぐち号」を走らせ、人気を集めている。

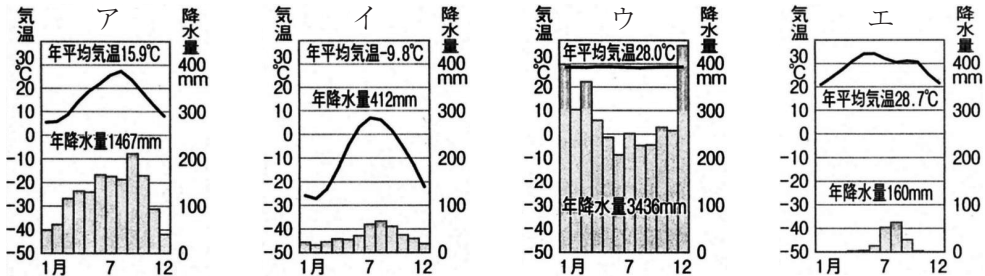
〔E〕

【エ】は安倍首相が進める経済政策のことである。景気を回復させることを最大の課題として、首相は次々に政策を行った。その後⑮株価が上って円安が進み、国民の間には景気回復への期待がふくらんでいる。7月に行われた⑯参議院議員選挙でも自民党が大勝した。

問1 下線部①について、赤道はどれですか。正しいものを1つ選び、記号で答えなさい。



問2 下線部②について、熱帯雨林気候の^{うおん}雨温図（グラフ）はどれですか。正しいものを1つ選び、記号で答えなさい。



問3 次の説明文を参考にして、文章中の空欄【 ア 】に当てはまる語句を答えなさい。

まいぞう
埋蔵量や産出量が少ない金属のこと。携帯電話やパソコンの部品などに用いられるため、必要となっている。


問4 下線部③について、^{りやくしょう}略称を何といいますか。アルファベットで答えなさい。

問5 下線部④について、南アフリカ共和国の国旗はどれですか。正しいものを1つ選び、記号で答えなさい。


ア.



イ.



ウ.



エ.



問6 文章中の空欄【イ】に当てはまる語句を答えなさい。

問7 下線部⑤について、原爆が投下された都市は広島市とどこですか。漢字で答えなさい。

問8 下線部⑥について、次の空欄に当てはまる語句を答えなさい。

核兵器を持たない、作らない、()。


問9 下線部⑦について、次の写真の中でオバマ大統領はどれですか。正しいものを1つ選び、記号で答えなさい。

ア.

イ.

ウ.

エ.



問10 下線部⑧について、富士山は2つの県にまたがっています。静岡県ともう1つはどこですか。漢字で答えなさい。

問11 下線部⑨について、略称^{りやくしょう}を何といいますか。カタカナ4字で答えなさい。

問12 下線部⑩について、どのような環境問題が考えられますか。次の表を参考にして、答えなさい。

世界遺産登録前後の観光客数の変化

	登録前年	登録年（屋久島は登録後）
やく 屋久島（1993年）	1万人	8万人
いわみ 石見銀山（2007年）	40万人	71万3000人
小笠原諸島（2011年）	1万3572人	2万1854人

『月刊Newsがわかる2013.7』毎日新聞社より作成

問13 下線部⑪について、群馬県が接している県の組み合わせとして正しいものを1つ選び、記号で答えなさい。

ア. 新潟県・福島県・埼玉県

イ. 富山県・長野県・埼玉県

ウ. 埼玉県・茨城県・栃木県

エ. 長野県・福島県・茨城県

問14 下線部⑫について、次の問いに答えなさい。

けんた君とゆたか君は、山口県を出発して本州を東へ旅行することにしました。けんた君は本州の瀬戸内海側を、ゆたか君は日本海側を進みます。2人が最初に共通して通過する県はどこですか。漢字で答えなさい。

問15 文章中の空欄【ウ】に当てはまる語句を漢字で答えなさい。

問16 下線部⑬について、下関市とはほぼ同じ緯度^{いど}に位置する県はどれですか。正しいものを1つ選び、記号で答えなさい。

ア. 鹿児島県 イ. 徳島県 ウ. 石川県 エ. 山形県

問17 下線部⑭について、SLは石炭を燃料にして走ります。次の表から石炭に当てはまるものを1つ選び、記号で答えなさい。

日本のエネルギー消費割合（単位：％）

	1960年度	1970年度	2008年度
ア	42.2	19.9	21.4
イ	37.8	71.9	46.4
ウ	4.7	1.2	16.7
エ	0	0.3	9.7
水力	15.3	5.6	2.9
その他	0	1.1	2.9

『日本のすがた2011』『日本国勢図会1984』矢野恒太記念会より作成

問18 文章中の空欄【エ】に当てはまる語句を答えなさい。

問19 下線部⑮について、株高・円安だと私たちの生活はどのようになりますか。正しいものを1つ選び、記号で答えなさい。

- ア. 円安が進むと、輸出で成り立っている会社のもうけは少なくなる。
イ. 漁業や農業を営む人々は、燃料費が下がるので助かる。
ウ. 株を持っていると財産が増えるため、高級品が売れるようになる。
エ. 株の値段が高くなると株が売れないため、会社のもうけは少なくなる。

問20 下線部⑯について、参議院の任期は何年ですか。

第2問 次の文章を読んで、各問いに答えなさい。

〔A〕

この時代には、武士の力が強くなり、武士らしく力強い印象の文化が生まれてきた。文学でも、武士たちの戦いのありさまを力強い文章で描いた軍記物が生まれた。①源平の合戦を描いた『平家物語』は【ア】によってひき語りされ、平氏一族の盛衰が当時の人々に伝えられていった。また、このころ仏教ではわかりやすい教えを説く僧があらわれ、戦乱やききんの中で救いを求める武士や民衆の間に広まっていった。

〔B〕

この時代には、世の中が安定したので、富をたくわえた町人たちが、俳諧を楽しんだり、芝居を見たり、浮世絵やふすま絵を見くらべたりするゆとりが生まれた。また、交通や産業も発達し、豊かな農民の間にも②手習いを好む人々が生まれたため、都市の文化が農村にまで広がった。③人間らしい生き生きとした感情や生活があらわれている文化が誕生した。

〔C〕

この時代には、将軍や多くの守護大名は幕府のあった京都で生活していたので、公家文化と武士の文化がとけあった。代表的な建築物である④銀閣にみられる【イ】は、たたみをしきつめて床の間を設けたもので、こんにちの和風住宅のもとになっている。日本の伝統文化を代表する能・狂言・茶の湯などがこの時代にはじめられた。また、⑤庶民の生活と結びついた文化も広がった。

〔D〕

この時代には、中国の文化からはなれた日本独自の政治や文化のあゆみが始まった。【ウ】とよばれる貴族の住宅もあらわれた。その室内には日本の風物を描いた屏風などがかざられた。また、かな文字の使用が広まることにより、感情を文章にあらわしやすくなって、⑥和歌や物語・随筆などの文学が発達した。

問1 下線部①について、次の写真の中で源平の合戦により平氏に焼かれた建造物はどれですか。正しいものを1つ選び、記号で答えなさい。

ア.



イ.



ウ.



エ.



問2 文章中の空欄【 ア 】に当てはまる語句を答えなさい。

問3 下線部②について、「読み・書き・そろばん」などを教えた^{しよみん}庶民の教育施設を何と
いいますか。漢字で答えなさい。

問4 下線部③について、この時代に当てはまらない人物を1つ選び、記号で答えなさい。

ア. 松尾芭蕉 イ. 正岡子規 ウ. 近松門左衛門 エ. 葛飾北斎

問5 下線部④について、この建物をつくった人物を漢字で答えなさい。

問6 文章中の空欄【 イ 】に当てはまる語句を漢字で答えなさい。

問7 下線部⑤について、この時代から親しまれるようになった文化に当てはまらないものを1つ選び、記号で答えなさい。

ア.

イ.

ウ.

エ.



問8 文章中の空欄【ウ】に当てはまる語句を漢字で答えなさい。

問9 下線部⑥について、作品と作者の組み合わせが正しいものを1つ選び、記号で答えなさい。

ア.『枕草子』 — 紀貫之

イ.『古今和歌集』 — 清少納言

ウ.『源氏物語』 — 紫式部

エ.『万葉集』 — 聖徳太子

問10 [A]～[D]の文章を古い順に並べ替えて、記号で答えなさい。